

Задача №9

Когда Динара помыла 1 кружку, 3 кружки ещё оставались грязными. Сколько всего кружек надо было помыть Динаре?



Задача №10

Руслан купил маме букет роз. По дороге домой мальчик случайно сломал 2 цветка. Осталось 5 роз. Сколько роз Руслан купил маме?



Задача №11

Мама принесла на обед 2 батона. После обеда остался 1 батон. Сколько батонов съели во время обеда?



Задача №12

На ветке поспевало 7 груш. Когда спелые груши упали, на ветке осталось только 2 груши. Сколько груш упало?



Задача №17

В вазочке лежат 7 шоколадных конфет и 1 карамелька. На сколько шоколадных конфет в вазочке больше, чем карамелек?



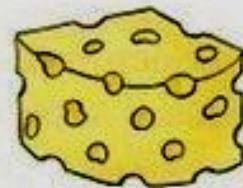
Задача №18

Серёжа нашёл в лесу 6 грибов. А Миша смог найти только 2 гриба. На сколько грибов меньше у Миши, чем у Серёжи?



Задача №19

Хомячок съел 4 куска сыра. Это на 1 кусок меньше, чем колбасы, которую он тоже съел. Сколько кусков колбасы съел хомячок?



Задача №20

Ахмет играл в компьютерные игры 10 минут. Это на 2 минуты больше, чем играл Асхат. Сколько минут играл в компьютерные игры Асхат?



Задача №21

Когда бабушка Тоня вышла во двор и позвала котят, к ней подбежало 4 чёрных котёнка и 3 рыжих. Сколько всего котят подбежало к бабушке Тоне?



Задача №22

После того, как Жанна научилась пришивать пуговицы, она пришила на своё платье 5 красных пуговиц и 4 зелёных. Сколько всего пуговиц пришила девочка на своё платье?



Задача №23

Когда Костя отдыхал на море, он нарисовал 4 рисунка с природой. 3 рисунка он подарил своей маме. Сколько рисунков у мальчика осталось?



Задача №24

Чтобы связать свитер своему внуку Тимуру, бабушка купила 10 клубков шерстяной пряжи. А потратила только 4 клубка. Сколько клубков пряжи не понадобилось?



Задача №25

Тётя Диляра посадила 9 кустов смородины: красной и чёрной. Красной смородины было 3 куста. Сколько кустов чёрной смородины посадила тётя Диляра?



Задача №26

Прогуливаясь по саду, Дамир нарвал для бабушки 8 фруктов: 4 груши и несколько слив. Сколько слив нарвал Дамир для своей бабушки?



Задача №27

Наливая дедушке чай, Анара и Ерлан насыпали в чай 4 ложки сахара. Сколько ложек сахара положила в чай Анара, если Ерлан добавил 3 ложки сахара?



Задача №28

Чтобы нарядить свою любимую куклу к празднику, Алиа взяла 6 украшений: несколько колец и 4 брошки. Сколько колец взяла девочка для куклы?




Задача №29

Утром Айдана испекла для гостей пирожные и сама съела 3 из них. Поэтому к приходу гостей осталось только 5 пирожных. Сколько всего пирожных испекла Айдана?



Задача №30

В озере плавала стая уток. Когда в кустах показалась лиса, 4 утки взлетели. Только 2 утки остались плавать в озере. Сколько всего было птиц в стае?



Задача №31

В огороде выросло 8 кочанов капусты. После того, как в огород забрела голодная коза, там осталось только 3 кочана. Сколько кочанов капусты съела коза?



Задача №32

У Стаса было 5 самолётов. После того, как у него в гостях побывали друзья, целых самолётов осталось только 4. Сколько самолётов теперь придётся чинить?



Задача №33

Вчера в школе Андрей получил 3 пятёрки. Сегодня он получил на 3 пятёрки больше. Сколько пятёрок Андрей получил в школе сегодня?




Задача №34

Белка может сгрызть лесной орех за 1 минуту. А с грецким орехом она возится на 4 минуты дольше. Сколько минут потратит белка на то, чтобы съесть грецкий орех?



Задача №35

Во время игры в прятки Улан спрятался под стулом за 7 секунд. А под кровать он смог залезть на 3 секунды быстрее. За сколько секунд Улан залез под кровать?



Задача №36

Обычно щенок добегает до кухни за 6 секунд. А когда на плите варились сосиски, он добежал на 4 секунды быстрее. За сколько секунд добежал до кухни щенок?



Задача №37

Девочка Лида разбросала свои кубики за 3 минуты. А убрала их за 8 минут. На сколько минут быстрее Лида разбросала кубики, чем их убрала?



Задача №38

У мальчика Никиты в гараже стоят 10 игрушечных легковых машинок и 4 грузовика. На сколько легковых машинок у Никиты больше, чем грузовиков?



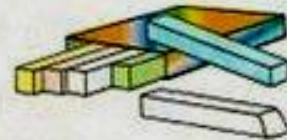
Задача №39

Сидя перед телевизором, Рома решил 1 задачу. Это на 3 задачи меньше, чем он мог бы успеть за это время. Сколько задач решил бы Рома, если бы не отвлекался?



Задача №40

Чтобы нарисовать картинку, Зарина потратила 5 голубых мелков. Это на 4 мелка больше, чем жёлтых. Сколько жёлтых мелков потратила Зарина?



Задача №41

На первом уроке Вера нечаянно уронила карандаш на пол 2 раза. На втором уроке карандаш падал на пол ещё 5 раз. Сколько раз карандаш побывал на полу за два урока?



Задача №42

Убирая в шкафу, Дина собрала 3 коробки старых фантиков. После этого в шкафу навела порядок мама и собрала ещё 6 коробок фантиков. Сколько всего коробок с фантиками было собрано?



Задача №43

В песочнице 10 малышей строили дом. 7 малышей уже успели сильно запачкаться. Остальные малыши пока ещё были чистыми. Сколько малышей в песочнице были чистыми?



Задача №44

Соревнуясь друг с другом, 9 друзей забрались на крышу дома дяди Коли. Но только 8 из них смогли оттуда спуститься. Сколько друзей теперь придётся снимать с крыши дяде Коле?

